

Сурагчийн нэр


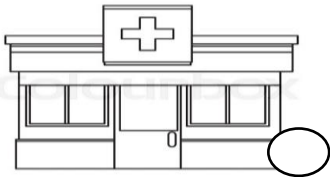
Эхэлсэн: он сар өдөр



Өөрийнхөө болон гэр бүлийнхээ хамгийн их үйлчлүүлдэг үйлчилгээний газар байгууллагуудыг нэрлэж чаддаг болсон уу?

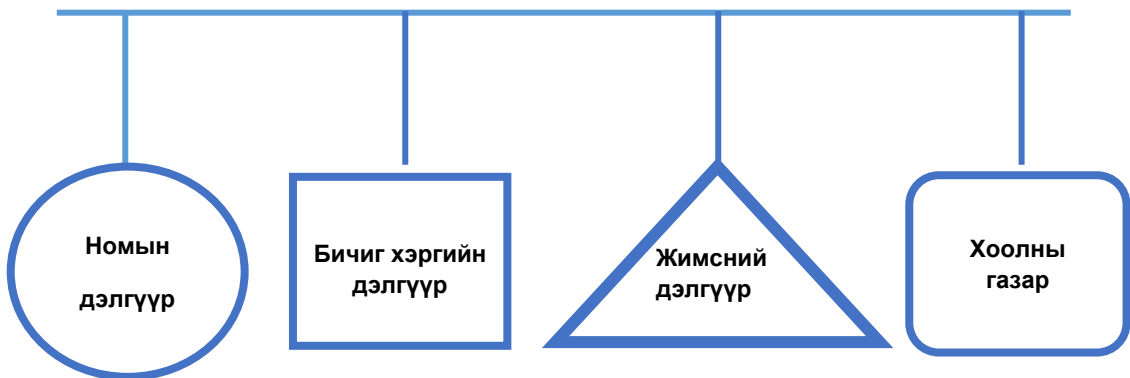
Даалгавар

1 Доорх зургийг ажиглан өөрийнхөө оршин суудаг газарт байрладаг байгууллагын ○ -г будаж гэрийнхээ хаягыг бичнэ үү.



Handwriting practice lines with a grid pattern.

2 Юуг хаанаас авахыг нь зөв харгалзуулаарай. (→)



Дууссан: сар өдөр



Өөрийн үнэлгээ:



Сурагчийн нэр

Эхэлсэн: он сар өдөр



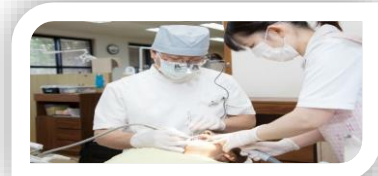
- Гэр
- Сургууль
- Аймаг
- Сум
- Хот
- Дүүргийнхээ хаяг байршлыг зөв хэлж бичиж чаддаг болсон уу.

Даалгавар

1 Зургийг ажиглан байгууллагын нэрийг бичээрэй.



2 Хэн хаана ажилладаг вэ?



Дууссан: сар өдөр



Өөрийн үнэлгээ:



Сурагчийн нэр

Эхэлсэн: он сар өдөр



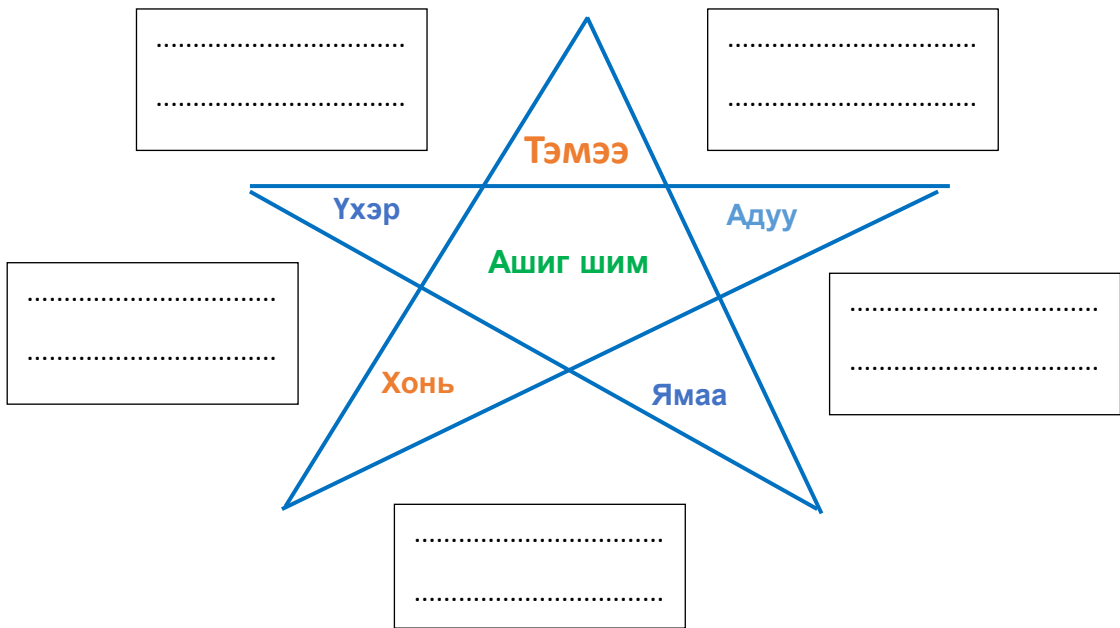
Амьтан бүрийн амьдрах орчин өөр өөр байдаг. Бид орон нутагтаа амьдардаг амьтад болон гэрийн тэжээмэл амьтдыг яагаад хайрлан хамгаалах ёстой вэ? Малын ашиг шим гэж юуг хэлэх вэ?

Даалгавар

1


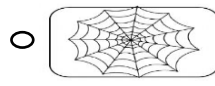
Таван хошуу малын ашиг шимээс зөвийг нь сонгон бичээрэй.

Нөхөх үгс: Сүү, цагаан идээ, мах, өндөг, ноос, ноолуур, арьс шир, жимс жимсгэнэ, зөгийн бал,



2

Зурагт өгөгдсөн амьтдын амьдрах орчинг зөв холбоорой.



Дууссан: сар өдөр



Өөрийн үнэлгээ:



Хүнсний ногоо ба жимс жимсгэнэ

Орон нутаг ба байгаль

Сурагчийн нэр

Эхэлсэн: он сар өдөр



- Орон нутагтаа ургадаг хүнсний ногоо, жимс жимсгэнийг ялган таних уу?
- Хүнсний ногоо болон жимсний ач тусыг мэдэх нь зөв зохистой хэрэглэхэд тустай.

Даалгавар

1

Дараах зургаас хүнсний ногоо, жимс жимсгэнийг хүснэгтэд ялган бичээрэй.

Хүнсний ногоо

Жимс жимсгэнэ



2

Онсогыг таагаарай. Ямар ач тустай хүнсний ногоо вэ?

Гээг нь ногоон

Гэдэс нь цагаан /Тэр юу вэ?/.....



Сурагчийн нэр:

Эхэлсэн: он сар өдөр



Орон нутгийн хүмүүсийн хэрхэн хөдөлмөрлөж, аж төрдөгийг мэдэж танилцана.



Даалгавар

1

Орон нутгийн хүмүүсийн аж амьдрал, эрхэлдэг ажлыг хараад аль улиралд хийж болохыг бичнэ үү.



Орон нутагт хүмүүсийн эрхэлдэг хөдөлмөр



2

Малчин хүмүүс малын ашиг шимээр ямар бүтээгдэхүүн хийдэг вэ? Нэрлэн бичнэ үү.



Handwriting practice lines with a grid pattern.



Сурагчийн нэр:

Эхэлсэн: он сар өдөр



Монгол орныхоо бахархал болсон түүхэн дурсгалт газруудын тухай юу мэдэх вэ?

Даалгавар

1

Байгалийн үзэсгэлэнт газар уул, ус болон түүхийн дурсгалт газар аль аймагт байдаг вэ? Газрын зурагт заагаарай.



Эрдэнэзуу хийд



Увс нуур

Богд Уул



Алтай Таван Богд



2

Тайхар чулууны домгийг уншаад асуултын зөв хариултыг дугуйлна уу?

Тайхар чулуу нь Архангай аймгийн Их тамир сумын нутагт Тамирын голын хөвөөнд орших, бүдүүн ширхэгт боржин чулуун цохио. Энэхүү чулуун хөшөөний тухай олон домог, шинжлэх ухааны тайлбарууд байдаг. Тайхар чулуу нь газрын байрлалын хувьд урдуур хойгуур нь өндөр дэнж (Хар эрэг)-тэй, харалдаа ард нь Тайхар чулуу руу харсан хадан хясаа бүхий намхавтар уултай (Улаан толгой) бөгөөд олон жилийн өмнө урд хойд хоёр эргийн хооронд их хэмжээний ус урсдаг, арын уул нь Тайхар чулууг хүртэл урагшаа үргэлжилсэн байрлалтай байсан. Гэвч он цагийн аясаар уул элэгдэж, ус ширгэж үгүй болох үед уулнаас үлдсэн хэсэгхэн чулуу нь өнөөдрийн Тайхар чулуу хэмээх байгалийн үзэсгэлэнт нэгэн бүтээл болон үлджээ.



Домогт юуны тухай өгүүлсэн бэ?

А. Амьтны тухай Б. Бөхийн тухай В. Чулууны тухай

Дууссанонсарөдөр.....цаг



Өөрийн үнэлгээ:



Сурагчийн нэр:

Эхэлсэн: он сар өдөр



Байгаль орчинтойгоо зөв зохистой харьцаж сурна.
Хангай болон говийн нутагт амьдардаг амьтдыг ялган таньж сурсан уу?

Даалгавар


1 Байгаль дээрх хүүхдүүдийн хийж буй зөв үйлийг , буруу үйлийг  тэмдэглээрэй.



2 Амьтдын амьдрах орчинг зөв харгалзуулаарай.



ГОВЬ



ХАНГАЙ



3 Дараах ургамлууд хаана ургадаг вэ? Нөхөх үг / говь, хангай/



.....
.....
.....
.....



.....
.....
.....
.....



Сурагчийн нэр:

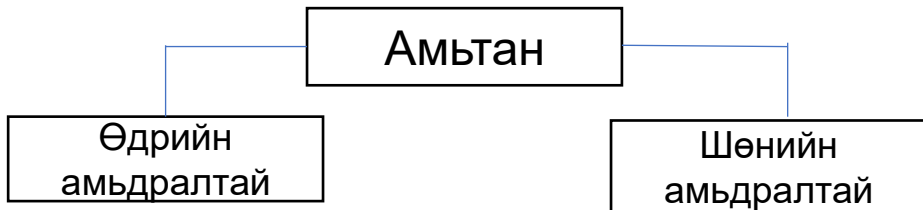
Эхэлсэн: он сар өдөр



Амьтад байгаль орчинтойгоо дасан зохицон амьдардаг. Шөнийн амьдралтай амьтад хоол тэжээлээ хэрхэн олж иддэг вэ?

Даалгавар

1 Амьтад өдөр ба шөнийн амьдралтай байдаг. Тэдгээр амьтад нь ямар ямар амьтад байдаг вэ?



Handwriting practice lines for question 1.

2 Доорх амьтад шөнө унтдаг уу?
Загас.....
Муур
Сарьсан багваахай.....

3 Сарьсан багваахай хоол тэжээлээ шөнө яаж олж иддэг вэ?



Handwriting practice lines for question 3.



Сурагчийн нэр:

Эхэлсэн: он сар өдөр



Нийтийн эзэмшлийн газар гэж юу вэ? Нийтийн эзэмшлийн газрын зориулалт, иргэн хүний оролцооны талаар мэдлэгээ бататгаарай.

Даалгавар

1 Нийтийн эзэмшлийн газар гэж юуг хэлэх вэ? Өөрийн мэдэж байгаагаа бичээрэй.



.....
.....
.....
.....
.....
.....

2 Эдгээрээс нийтийн эзэмшлийн газар аль нь вэ? Будаж тэмдэглээрэй.


Тоглоомын талбай

Малын бэлчээр

Айлын хашаа

Байрны орц

3 Нийтийн эзэмшлийн газруудад тохижилт, цэвэрлэгээ, үйлчилгээ хийж байгаа хүмүүсийн хөдөлмөрийг үнэлэх, хүндэтгэхийн тулд ямар дүрэм бид баримтлах хэрэгтэй вэ? Бичээрэй.



.....
.....

.....
.....

.....
.....



Сурагчийн нэр:

Эхэлсэн: он сар өдөр



Нийтийн эзэмшлийн газруудад баримтлах дүрэм, журмыг маш хялбар ойлгох тэмдэг, тэмдэглэгээгээр илэрхийлсэн байдаг. Зарим тэмдэг, тэмдэглэгээг уншиж, амьдралдаа хэрэглээ болгох нь чухал гэдэгтэй чи санал нийлэх үү?

Даалгавар

1

Нийтийн бие засах газар баримтлах дэгийг дараах тэмдэг, тэмдэглэгээгээр илэрхийлжээ. Найзууддаа танилцуулаарай.



Дэг.....
.....
.....
.....
.....

2

Зургийг ажиглаад зөв, буруу үйлдэл аль нь болохыг тэмдэглээрэй. /Зөв үйлдэл ✓ Буруу үйлдэл ✗ /



Сурагчийн нэр:

Эхэлсэн: он сар өдөр



Ургамлын оршин буй нутгийн нарны гэрэл, агаар, дулаан, ус, хөрс зэргийг амьдрах орчин болно. Ургамлын бүтэц, амьдралын үйл ажиллагаа амьдрах орчиндоо зохилдсон байдгийг мэдэх үү? Тэд бүтцийн хувьд ялгаатай байхаас гадна амьдрах орчиндоо зохилдсон онцлог шинжүүдтэй байдаг.

Даалгавар

1

Гацуур, нарс, шинэс, хуш гэсэн шилмүүст модыг навчтай нь зөв харгалзуулаарай.



Нарс



Гацуур



Шинэс



Хуш



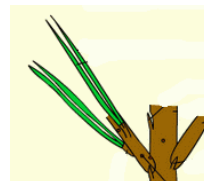
Шилмүүс нь мөчир дээрээ ганц ганцаар байрладаг.



Нэг нахиан дээр 25-50 ширхэгээр багцлан ургадаг.



Нэг нахиан дээр 5 ширхэгээр багцлан ургадаг.



Нэг нахианаас 2 шилмүүс ургадаг.

2

Ихэнх жимс хурц тод өнгөтэй, сайхан амттай байдаг. Гэвч түүнийг түүж идэхэд маш бэрх. Учир нь хурц өргөстэй байдаг, Яагаад гэдгийг тайлбарлаарай. Жишээ нь 5 дэлбээ бүхий ягаан цэцэгтэй дараах ургамлын нэрийг бичээд юунд хэрэглэдэг тухай найздаа ярьж өгөөрэй.



Дууссан:сарөдөр



Өөрийн үнэлгээ:



Сурагчийн нэр:

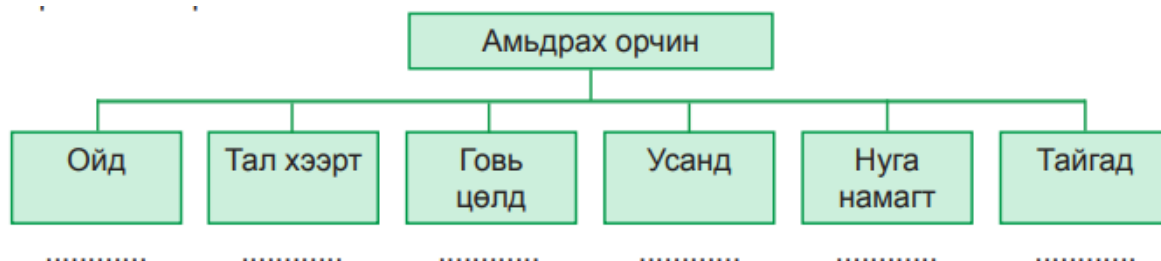
Эхэлсэн: он сар өдөр



Амьтдын орчин буй нутгийн нарны гэрэл, агаар, дулаан, ус, хөрс, ургамал, тэжээл зэргийг амьдрах орчин гэнэ. Амьтдыг хаана амьдарч байгаагаас нь хамраараад ойн, тал хээрийн, усны амьтад гэх мэтээр ангилж болно. Тэд ургамлын нэгэн адил амьдрах орчиндоо зохиолдсон олон онцлог, бусдаас ялгарах шинжүүдтэй байдаг.

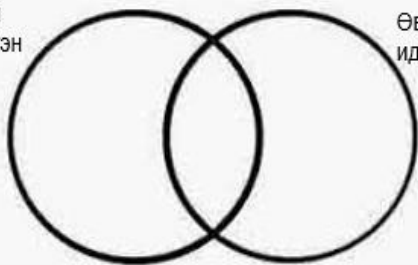
Даалгавар

1 Дараах амьтад хаана амьдардаг болохыг загвар зурагт тохируулан бичээрэй. /мэлхий, цаа буга, гөрөөс, тэмээ, хун, баавгай/




2 Загас, халим, үнэг, хэрэм, мэлхий, баавгай зэрэг амьтад аль нь махан болон өвсөн идэштэн болохыг ангилан бичээрэй.

Махан идэштэн



Өвсөн идэштэн



3 Амьтдын идэш тэжээл өөр өөр байдаг тул тэдний шүдний бүтэц ялгаатай байдаг. Доорх зургийг ажиглаад ямар идэш тэжээлтэй амьтдын шүд болохыг тохируулан нөхөөд бичээрэй.

1. Араа шүд



2. Соёо шүд



3. Үүдэн шүд



- А. Чоно (махан идэштэн)
- Б. Морь (өвсөн тэжээлтэн)
- В. Туулай (ургамлын үндсээр хооллодог-мэрэгч)

Дууссан:сарөдөр



Өөрийн үнэлгээ:

